



REGARDE ET RETIENS

Observe le garçon qui tient les ballons.

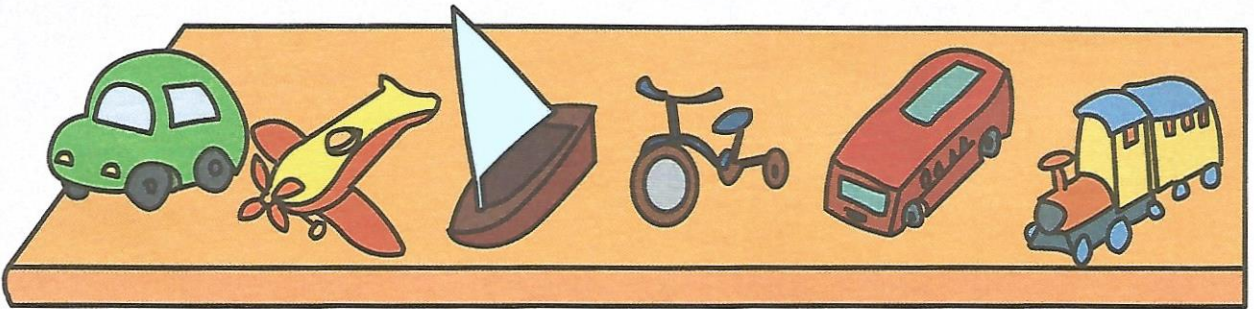
main droite main gauche



main gauche main droite



Observe la collection de véhicules.



Le train est **à droite** de l'autocar.

Le vélo, l'autocar et le train sont **à droite** du bateau.

Le vélo est **à gauche** de l'autocar.


L'autocar est **à gauche** du train.

Pour les parents

Savoir s'orienter est important dans la vie quotidienne ; cela devient fondamental à l'école car la feuille de papier ou la page du livre s'utilise selon une ligne orientée de gauche à droite.

ENTRAÎNE-TOI


1 Entoure les vaches à gauche de l'arbre.



2 Entoure les enfants qui vont tourner à droite.



3 Paul achète la voiture qui se trouve à sa droite, entoure-la.



PRÊT POUR LE CP !

4 Colorie les majuscules d'imprimerie de la bonne couleur :
la 1^{re} en vert, la 3^e en rouge, la dernière en bleu.

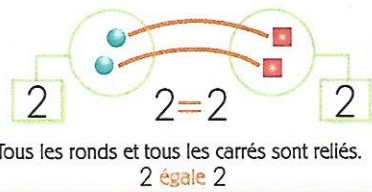
D I N O S A U R E

Gauche → Droite



Le nombre 0 [zéro]

Le signe =



0 0

1 Dessine des triangles :



0



2



1

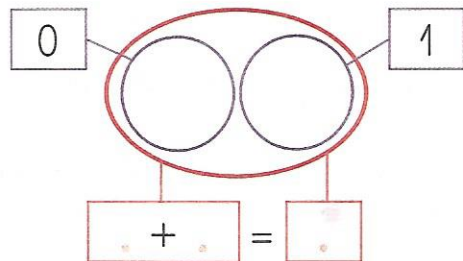
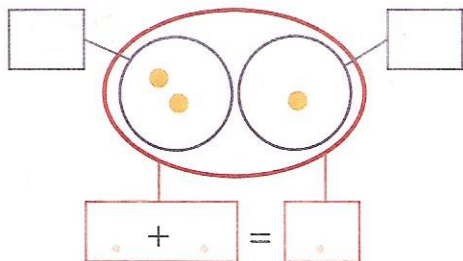


3

2 Mets une cuillère dans chaque tasse en les reliant et complète les étiquettes :



3 Complète :



4 Complète les égalités :

$1 + 2 = \dots$

$3 + 0 = \dots$

$0 + 2 = \dots$

$1 + 1 = \dots$

$2 + 1 = \dots$

$1 + 0 = \dots$