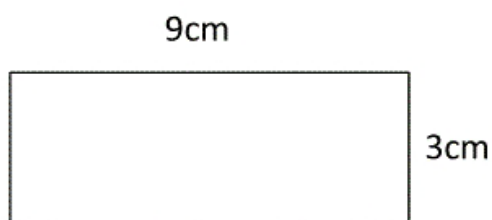


CALCULER UN PERIMETRE

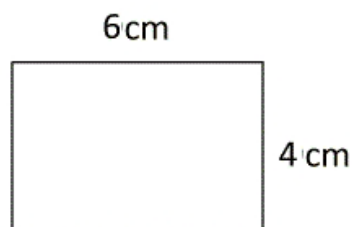
Exercice 1 : Indique le périmètre des rectangles suivants.

1)



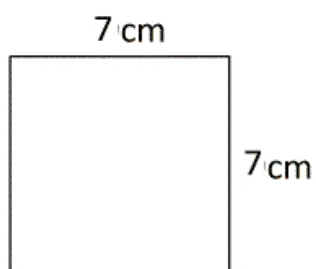
Périmètre = _____ cm

2)



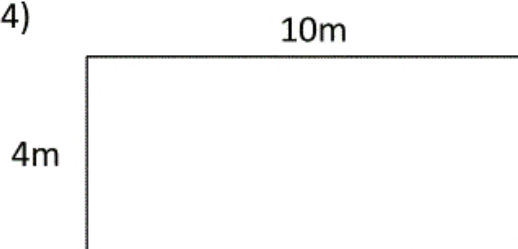
Périmètre = _____ cm

3)



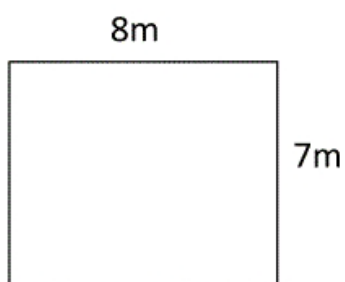
Périmètre = _____ cm

4)



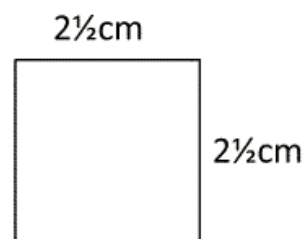
Périmètre = _____ m

5)



Périmètre = _____ m

6)



Périmètre = _____ cm

Exercice 2 : Trace les figures demandées puis calcule leur périmètre.

- 1) 3cm de longueur ; 7cm de largeur
- 2) 5cm de longueur ; 5cm de largeur
- 3) 6cm de longueur ; 9 cm de largeur