

Numération les nombres < 100.

Nombres et quantités : de 0 à 90

1 Colorie de la même couleur ce qui est identique:

84 $20+20+20+20+8$ quatre-vingt-quatre

$80+9$ quatre-vingt-huit 86 $80+6$

$80+8$ $20+20+20+20+4$ $80+4$

quatre-vingt-deux $20+20+20+20+9$

quatre-vingt-six $80+2$

$20+20+20+20+2$ $20+20+20+20+6$

88 quatre-vingt-neuf 82 89


Nombres et quantités : de 0 à 90


1 Ecris les nombres dans l'ordre croissant, du plus petit au plus grand:

72 - 83 - 71 - 85 - 88 - 68

68 71 72 83 85 88

2 Trouve combien Arthur a d'argent dans sa tirelire :





Le genre des mots

Ecris « le » ou « la » à côté des mots.

le ou la ?

la pomme



le livre




la poule



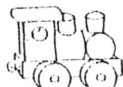
le lit



le cochon



le train



le tambour



le bonbon



la banane



le vélo



la princesse



le panier




la voiture



le papillon





Correction


 Complète avec na, ne, ni, no, nu


 une banane


 une chenille


 un canard


 un piano

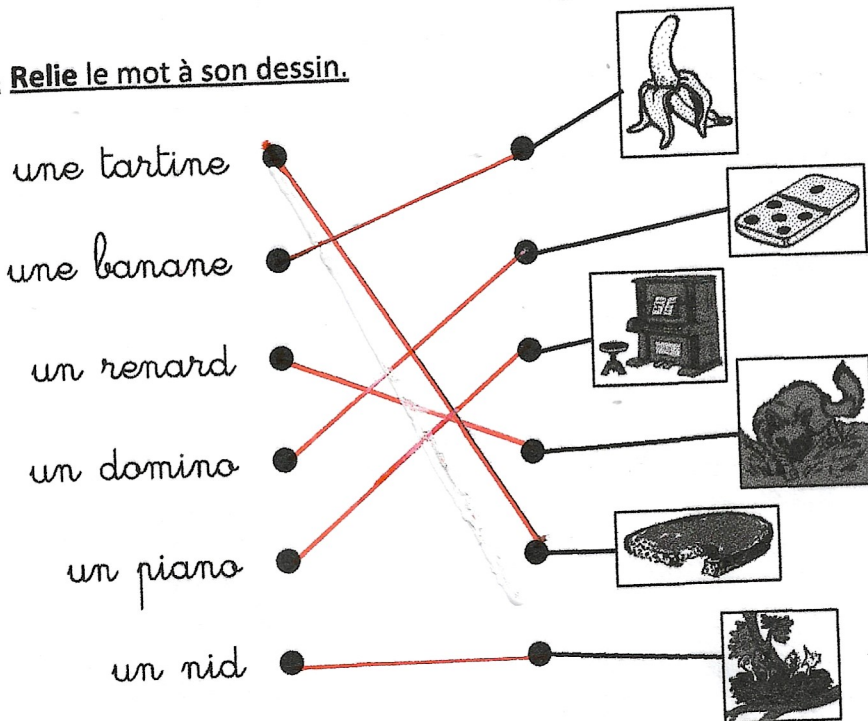
 des menottes


 un domino


 un harmonica

 un jardinier

 Relie le mot à son dessin.



 Met les syllabes en ordre et écris le mot.



sou è
re pi

nê fe
tre

lei
ba ne

dro ma
re dai

soupière - fenêtre - baleine - chamadaire



Met les lettres en ordre et écris le mot.



ch
t a

chat



che
ru

ruche



ni
che

niche



che
val

cheval

Pour chaque dessin, entoure le mot qui convient.



louche
douche
mouche




miche
niche
riche



roche
moche
poche

Complète avec : cha, chi ou che



une cheminée



elle marche



un chapeau



des chips.

Prénom :

Date : 12 / 01 / 22

En lien avec la leçon

Correction

Lire l'heure sur une horloge à aiguilles

Évaluation

Compétences travaillées

Comprendre le fonctionnement d'une horloge à aiguilles

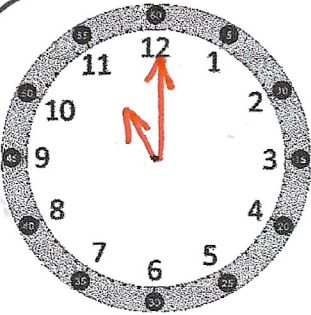
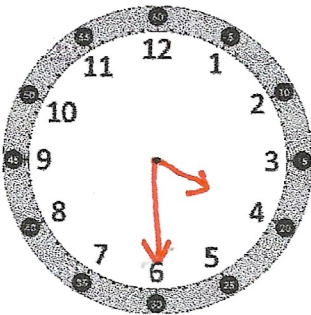
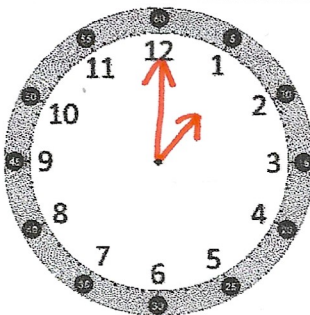
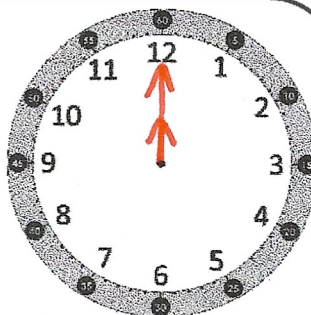
Lire l'heure sur une horloge ou une montre à aiguilles (heures piles et demi-heures)

NA

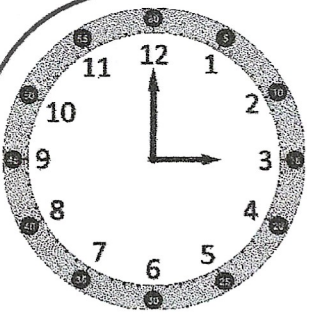
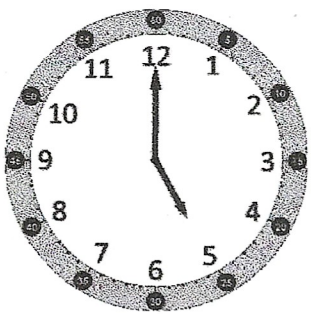

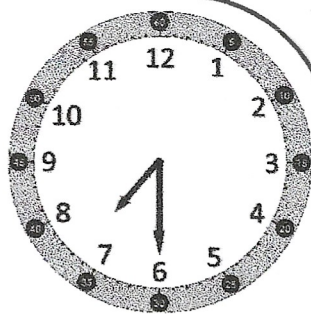


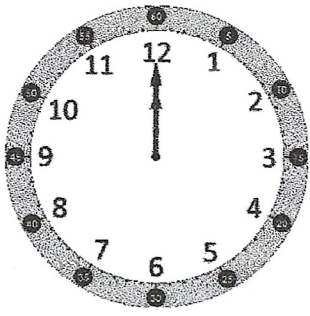

ECA

A

Exercice (1) : Trace les aiguilles correspondant à l'heure indiquée sous chaque horloge.

 <p>11 h 00</p>	 <p>4 h 30</p>	 <p>1 h 00</p>	 <p>12 h 30</p>
---	--	---	---

Exercice (2) : Indique l'heure qu'il est sur chaque horloge.

 <p><u>03 h 00</u></p>	 <p><u>05 h 00</u></p>	 <p><u>06 h 30</u></p>	 <p><u>07 h 30</u></p>
 <p><u>Il est 2 h 30.</u></p>	 <p><u>Il est 10 h 00.</u></p>	 <p><u>Il est 12 h 00.</u></p>	 <p><u>Il est 3 h 30.</u></p>