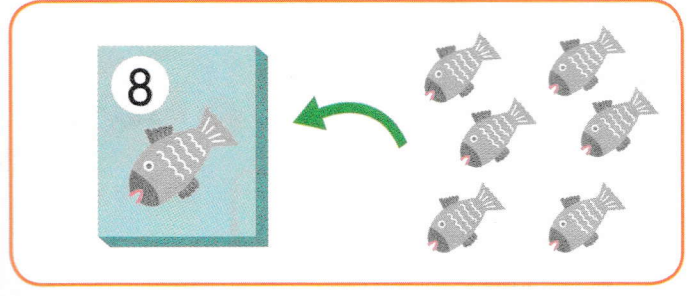
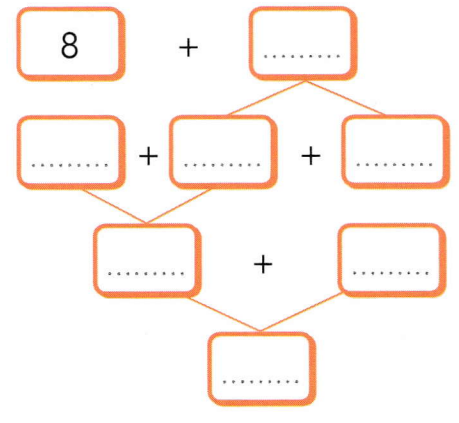



Je travaille seul(e)


4  **Complète** les boîtes de 10 et  **calcule** le nombre de poissons.

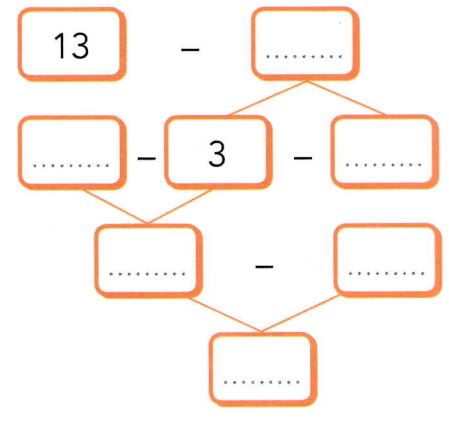


●	●	●	●	●
●	●	●		



5 Pic avait 13 pommes dans son sac. Il en a mangé 4. Combien reste-t-il de pommes dans son sac ?  **Complète.**





Il reste pommes dans son sac.

6  **Calcule** les additions et les soustractions.

- | | | |
|----------------|----------------|----------------|
| 12 + 6 = | 8 + 5 = | 4 + 7 = |
| 19 - 7 = | 12 - 5 = | 13 - 4 = |

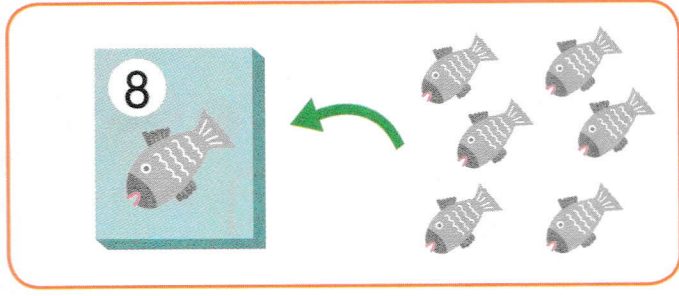
Je révise

 **Complète** en comptant de 2 en 2.

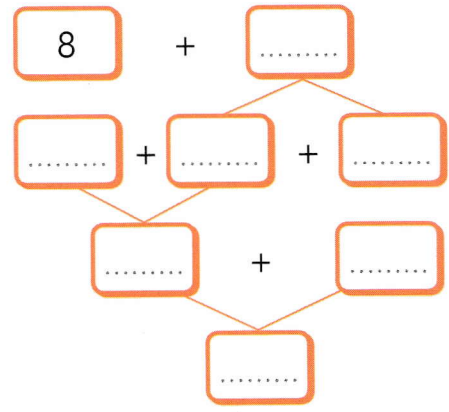
0	2
---	---	-------	-------	-------	-------	-------	-------	-------	-------


Je travaille seul(e)


4  **Complète** les boîtes de 10 et  **calcule** le nombre de poissons.

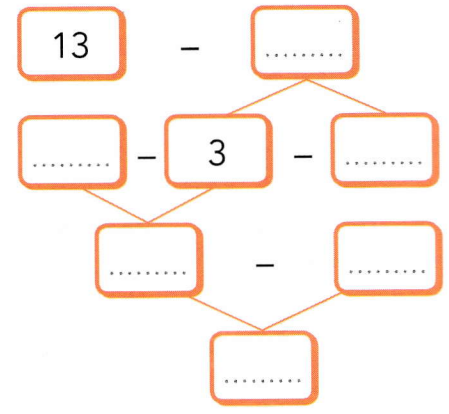


●	●	●	●	●
●	●	●		



5 Pic avait **13** pommes dans son sac. Il en a mangé **4**.
Combien reste-t-il de pommes dans son sac ?  **Complète.**





Il reste pommes dans son sac.

6  **Calcule** les additions et les soustractions.

- | | | |
|----------------|----------------|----------------|
| 12 + 6 = | 8 + 5 = | 4 + 7 = |
| 19 - 7 = | 12 - 5 = | 13 - 4 = |

Je révise

 **Complète** en comptant **de 2 en 2**.

0	2
---	---	-------	-------	-------	-------	-------	-------	-------	-------