

$$10 = \dots + 3 + 4$$

$$10 = 2 + \dots + 5$$

$$10 = 5 + 4 + \dots$$

$$10 = \dots + 8$$


$$10 = 3 + \dots$$

$$10 = 6 + \dots$$

Complete.

Je révise

Le pâtissier a préparé macarons.



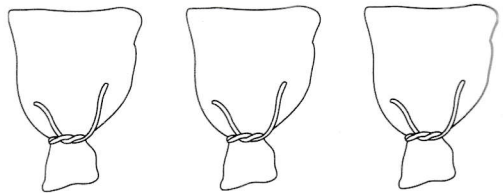
Je cherche.

Le pâtissier a préparé 6 boîtes contenant chacune 3 macarons. Combien de macarons le pâtissier a-t-il préparés ? Complete.

$$\dots + \dots = \dots$$

Il y a 2 fois 6 œufs.

$$\dots + \dots = \dots$$



Il y a 3 sacs de 4 oranges.


Dessine et calcule.

3 fois 4 cerises

8 fois 2 cerises

4 fois 2 cerises

$$2 + 2 + 2 + 2 = \dots$$



Calcule le nombre de cerises et colorie l'étiquette qui correspond.

Je travaille seule(e)