


# PROBLÈMES POUR APPRENDRE À CHERCHER

- 1 Combien faut-il de briques pour construire 2 étages de plus, sous les étages déjà construits ?



Il faut  briques pour construire 2 étages de plus.

- 2 Le bijoutier vend des bijoux pour enfants. Chaque bijou identique coûte toujours le même prix à l'unité.

**Trouve** le prix de chaque bijou.

$$\text{Ring with heart} + \text{Ring with heart} + \text{Ring with heart} = 15 \text{ €}$$

$$\text{Ring with heart} + \text{Ring with beads} + \text{Ring with heart} = 13 \text{ €}$$

$$\text{Ring with heart} + \text{Ring with beads} = 11 \text{ €}$$


$$\text{Ring with heart} = \text{..... €}$$

$$\text{Ring with beads} = \text{..... €}$$


$$\text{Ring with heart} = \text{..... €}$$

- 3 Combien de gâteaux ont été mangés ? **Complète.**

Avant



Après



gâteaux ont été mangés.