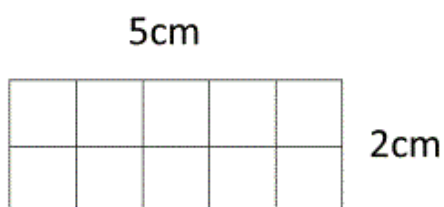


Mesures de périmètres

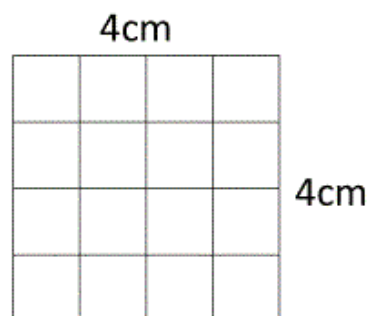
Indique le périmètre des rectangles suivants :

1)



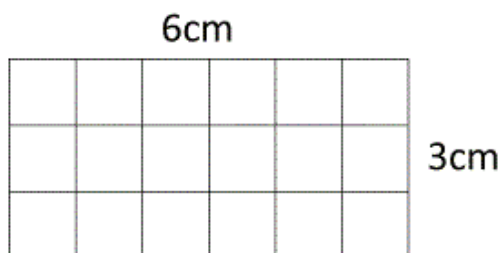
Périmètre = _____ cm

2)



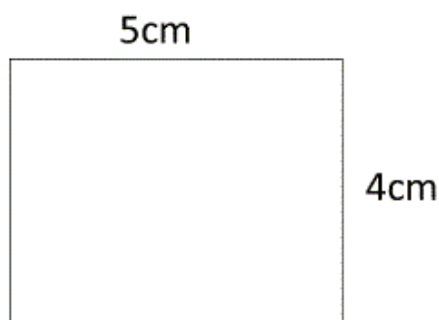
Périmètre = _____ cm

3)



Périmètre = _____ cm

4)



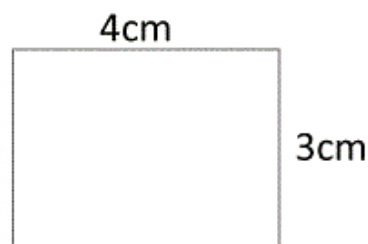
Périmètre = _____ cm

5)



Périmètre = _____ cm

6)



Périmètre = _____ cm

Formule du périmètre d'un rectangle : $(L + l) \times 2$ ou $2L + 2l$