

Programme du jeudi 14 au samedi 16 mai 2020

Les séances de français seront 1 heure et mathématiques 1 heure par jour

⇒ Apprendre cette poésie tous les jours 5 min

Une image dans mon cœur

Une image est dans mon cœur,
Adorable et parfumée,
Plus charmante qu'une fleur...
Une image bien aimée.

Une image est dans mon cœur,
Plus charmante qu'un poème.
Je lui parle avec bonheur,
Et lui dis combien je l'aime.

} Apprendre par cœur

Elle sourit tendrement,
Parfois se fait plus sévère,
Pleure si j'ai du tourment :
C'est l'image de ma mère.

Georges Darmont

Jeudi 14 mai

RDV à 10h00 avec la maitresse sur classe virtuelle pour la lecture

Pour demain apprendre les mots : **un pigeon-une nageoire**

Ecriture :

1/ Écris la date du jour en écriture cursive sur mon cahier à 3 carreaux comme d'habitude

2/ dictée à faire sur le cahier : **le poing-du foin- un coin**

3/ Tu vas recopier la suite de la poésie sur ton cahier rose. Applique-toi

Tu sautes une ligne. Puis tu écris la suite de la poésie

N'oublies pas d'aller à la ligne quand je fais à la ligne.

Une image est dans mon cœur,

Plus charmante qu'un poème.

Je lui parle avec bonheur,

Et lui dis combien je l'aime.

Français

4/Lecture à voix haute

Manuel Léo-Léa

Pour les jaunes et verts lire p118

Pour les bleus lire p 22

5/Exercices à faire sur le cahier
Pour les jaunes et les verts

Complète les mots avec la bonne syllabe :

geo — geon — gea — go — gon — ga

Léa est malade ; elle a la rou_____le.

Les ci_____gnes ont les pattes rouges.

Au printemps, il y a des bour_____s sur les arbres.

Des zèbres _____loperent dans la savane. Mon ballon est dé_____flé.



Marie boira une oran_____de fraîche. Tous les pi_____s s'envolent.

Le phoque fait un plon_____ dans les vagues.

Les _____rilles sont de très grands singes.

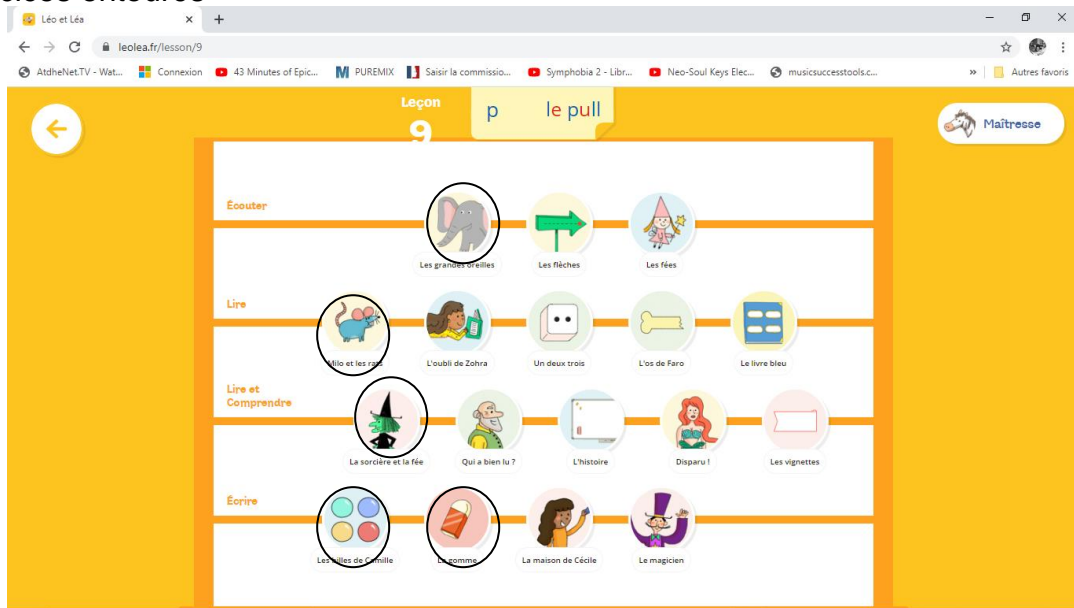
Pour les bleus :

[pi] [pa]

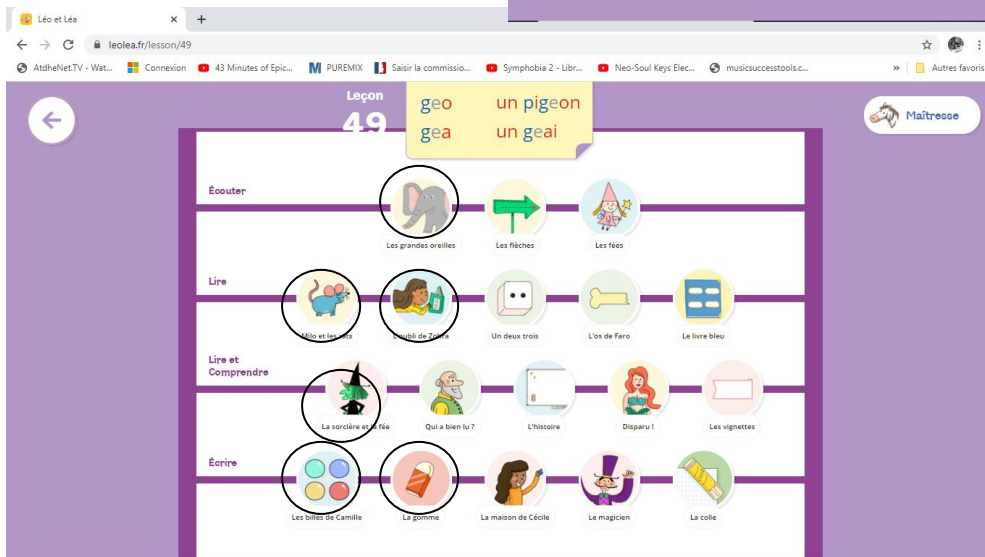
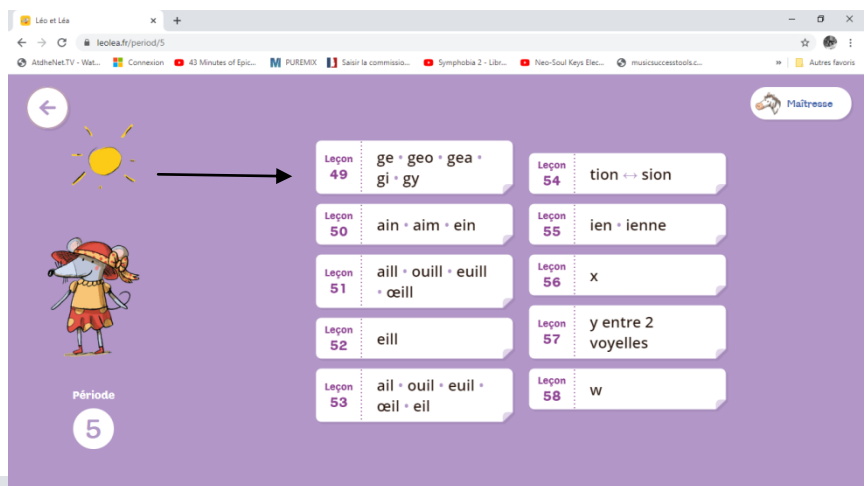


le pull le pot la pile la pipe

Pour les bleus
Faire les exercices entourés



pour les jaunes et les verts
période 5 leçon 49
Faire les exercices entourés



Calcul mental

7/ Parents Cliquez sur ce lien (ou copier coller dans google) pour effectuer le calcul mental
https://www.acces-editions-numeriques.com/ressources_matcp/jeux/index.html?Flash=104
 L'élève doit faire seul
 Sur le cahier ou sur une ardoise (si vous en avez une)

Numération

8/ Fais l'exercice sur le cahier

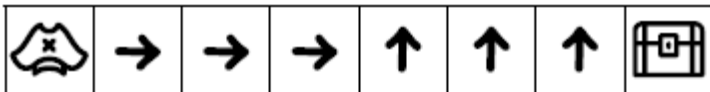
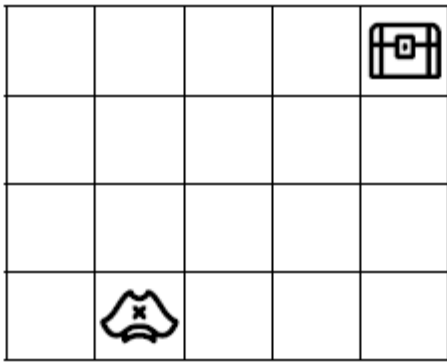
Écris les nombres en chiffres.

quatre-vingt-deux quatre-vingt-un

quatre-vingts quatre-vingt-huit


9/Espace et géométrie

Trace le chemin emprunté par le pirate pour retrouver son trésor.




Problème

4 Timéo a 35€. Combien lui manque-t-il pour acheter les rollers?
Dessine les euros qui manquent et complète le calcul.



Je cherche.



Je calcule. $20\text{€} + 10\text{€} + 5\text{€} + \dots = 56\text{€}$

Il manque€ à Timéo.

vendredi 15 mai

Apprendre pour la dictée de lundi 18 mai : **Tu pars loin de chez toi.**

Ecriture :

1/ Écris la date du jour en écriture cursive sur mon cahier à 3 carreaux comme d'habitude

2/ dictée à faire sur le cahier : **un pigeon-une nageoire**

3/ Voici des phrases, tu devras recopier sur ton cahier. Tu devras respecter la hauteur des lettres et la présentation

Le rhinocéros



Les rhinocéros ont 1 ou 2 cornes sur le nez en fonction de l'espèce. Chaque pied a 3 doigts. Ils vivent dans des savanes herbacées ou boisées (limite savane / forêt).

Lecture

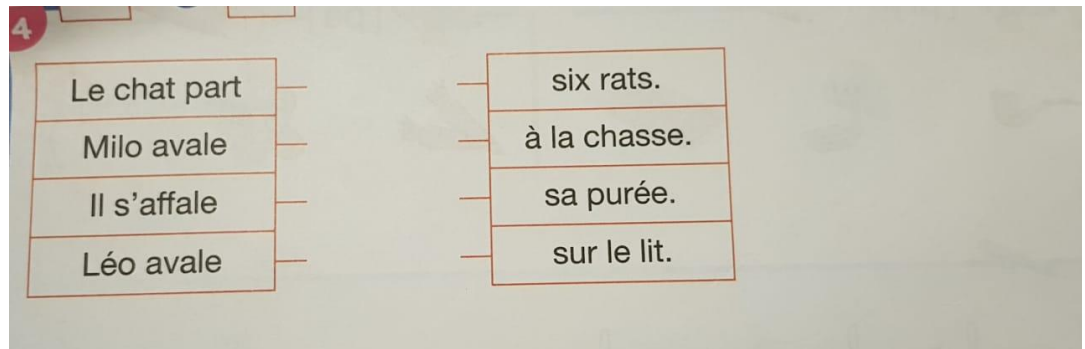
4/Lecture à voix haute

_Manuel Léo-Léa p 119

Lire le texte La balançoire (D'abord par l'élève puis par l'adulte)

Pour les bleus lire p 23

5/ pour les bleus



Pour les jaunes et les verts

Place les mots : mélangeant — rangeons — plongeon — mélangeons — plongeant

Le champion n'a pas raté son _____.

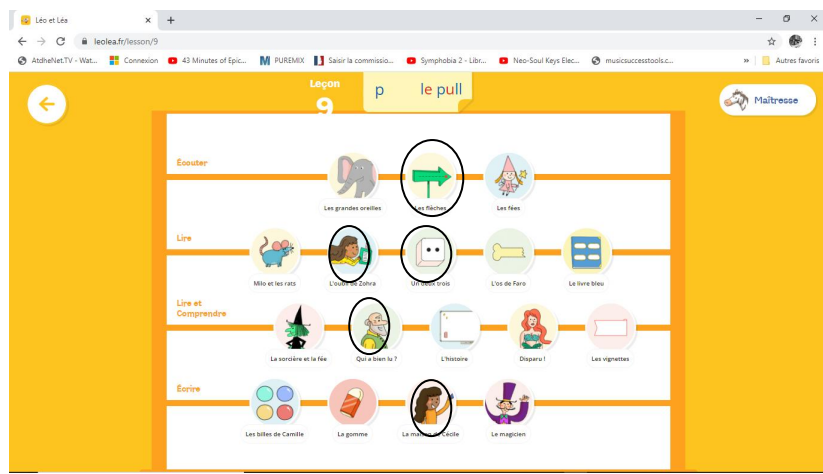
En se _____, le blanc et le noir font du gris.

En _____, tu as éclaboussé ton cousin.

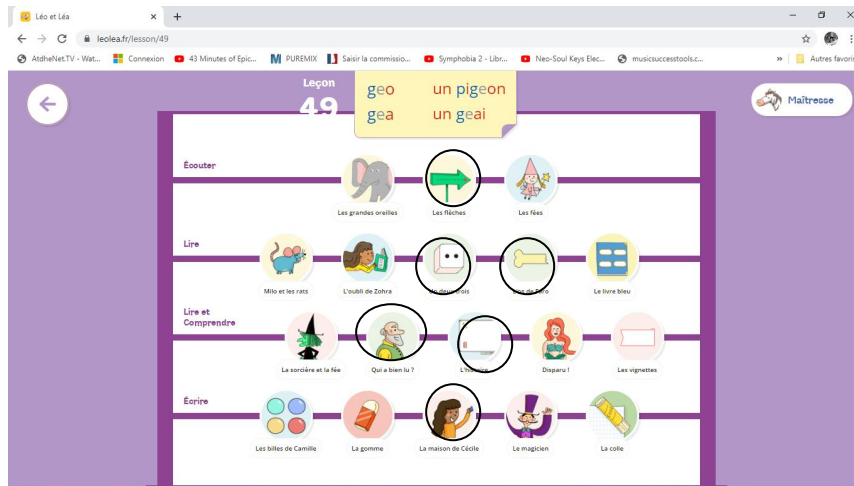
Nous _____ des œufs et du lait pour faire un flan.

Sur l'étagère, nous _____ les livres.

6/ Site **leolea.fr**
Faire les exercices entourés
Pour les bleus



Pour les jaunes et les verts



Mathématiques

Calcul mental

7/ Parents Cliquez sur ce lien (ou copier coller dans google) pour effectuer le calcul mental

https://www.acces-editions-numeriques.com/ressources_matcp/jeux/index.html?Flash=105

Sur le cahier ou sur une ardoise (si vous en avez une)

Numération et calculs

8/ A faire sur ton cahier

Calcule.

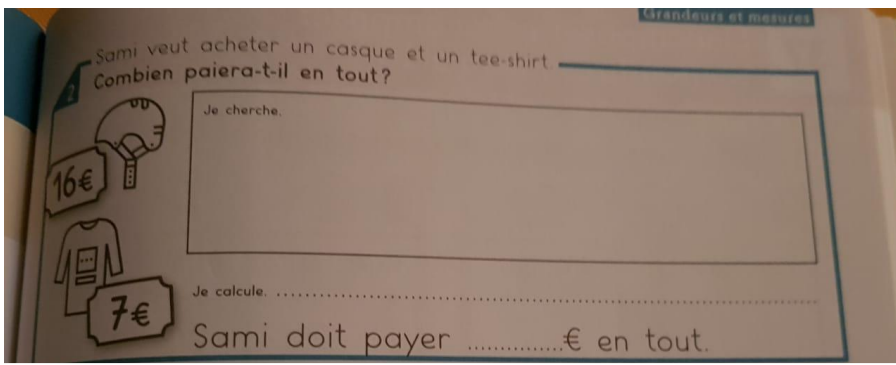
$$\begin{array}{r} 24 \\ + 54 \\ \hline \end{array}$$

$$\begin{array}{r} 42 \\ + 7 \\ \hline \end{array}$$

$$\begin{array}{r} 56 \\ + 32 \\ \hline \end{array}$$

$$\begin{array}{r} 84 \\ + 13 \\ \hline \end{array}$$

9/ Problèmes



Pensez à faire les activités sur les sites lecturex, lalilo

samedi 16 mai

1/Français

Terminer sur le site **leolea.fr**

Pour les bleus la leçon 9 et les autres la leçon 49

2/Mathématiques

Veuillez lire svp la notice envoyée dans Classroom pour installer ce logiciel.

Nous l'avons déjà utilisé en classe. Il permet de travailler le déplacement sur un quadrillage

<http://appli-etna.ac-nantes.fr:8080/ia53/tice/ressources/tuxbot/index.php>

3/Questionner le monde

L'espace

<https://www.youtube.com/watch?v=shQJd3oGYn8>

Dessine notre système solaire en respectant l'ordre des planètes sur ton cahier orange
N'oublies pas de mettre le nom des planètes. Puis écris à la suite la leçon à retenir

Notre système solaire est composé de 8 planètes. Il y a aussi des satellites comme la lune, des astéroïdes et des comètes qui tournent autour du soleil. Notre système solaire est situé dans la Voie lactée (nom de notre galaxie).

Pour t'aider

Infos pour les parents* (Pluton est désormais une planète naine)

