

Programme du lundi 18 mai au mercredi 20 mai 2020

Les séances de français seront 1 heure et mathématiques 1 heure par jour

Pensez à aller sur Lalilo

⇒ Apprendre cette poésie tous les jours 5 min

Une image dans mon cœur

Une image est dans mon cœur,
Adorable et parfumée,
Plus charmante qu'une fleur...
Une image bien aimée.

Une image est dans mon cœur,
Plus charmante qu'un poème.
Je lui parle avec bonheur,
Et lui dis combien je l'aime.

Elle sourit tendrement,
Parfois se fait plus sévère,
Pleure si j'ai du tourment :
C'est l'image de ma mère.

Georges Darmont

Apprendre par cœur

lundi 18 mai

RDV à 10h00 avec la maitresse sur classe virtuelle pour la lecture

Pour demain apprendre les mots de la phrase : **le frein, le train, maintenant**

Ecriture :

1/ Écris la date du jour en écriture cursive sur mon cahier à 3 carreaux comme d'habitude

Dictée : Parents dictez la phrase suivante : **Tu pars loin de chez toi.**

2/ Tu vas recopier la suite de la poésie sur ton cahier rose. Applique-toi

Tu vas à la ligne quand je fais à la ligne.

Elle sourit tendrement,

Parfois se fait plus sévère,

Pleure si j'ai du tourment :

C'est l'image de ma mère.

Georges Darmont

Français :

3/Lecture à voix haute

Manuel Léo-Léa

Pour les verts et jaunes lire p 120-121 leçon 50

Pour les bleus lire p 24 leçon 10

4/Exercice à faire sur le cahier
Pour les jaunes et verts

Complète les mots par: **ai** **ain**

Dem_____, nous prendrons le tr_____. Il sait f_____re le p_____.
Je lui serre la m_____. Nous achetons des œufs fr_____.s.
Tu invites ton cop_____. Al_____ n'_____me pas le l_____.t.

Écris le mot féminin, comme ceci: vilain: *vilaine*

américain:		marocain:	
sain:		certain:	
un grain:		africain:	

Pour les bleus



5/Site leolea.fr

Pour les bleus Choisir le période 1 voir ci-dessous puis leçon 10

Leçon 10

o le pot
o la pomme

Écouter

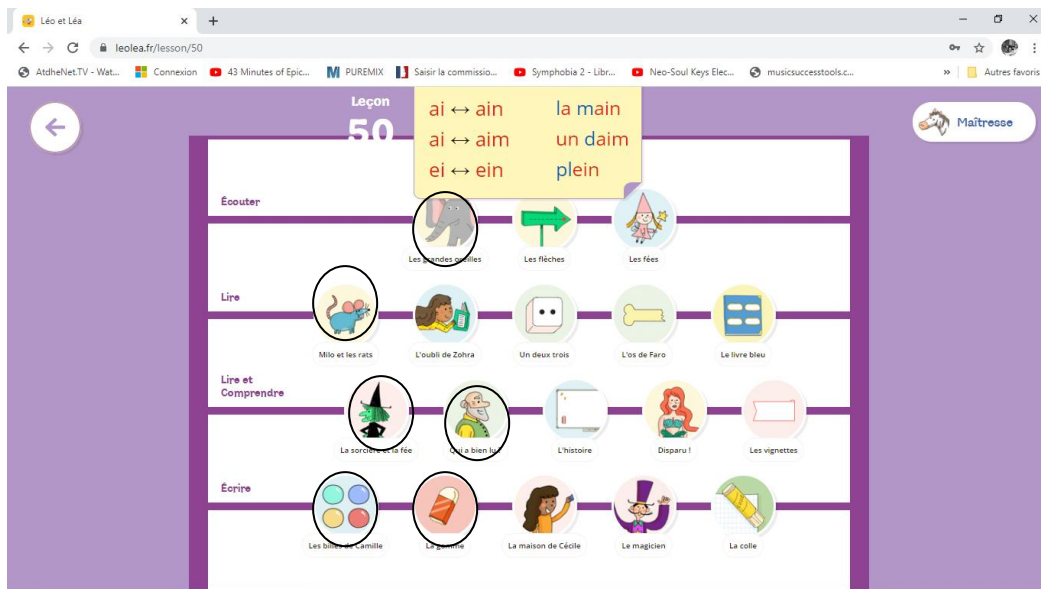
Lire

Lire et Comprendre

Ecrire

Les vignettes

Pour les jaunes et les verts Choisir période 5, puis leçon 50



Mathématiques

Calcul mental

6/ Parents Cliquez sur ce lien (ou copier coller dans google) pour effectuer le calcul mental

https://www.acces-editions-numeriques.com/ressources_matcp/jeux/index.html?Flash=106

L'élève doit faire seul

Sur le cahier ou sur une ardoise (si vous en avez une)

Numération

7/ Fais l'exercice sur le cahier.

Pose et effectue les opérations.

$$13 + 16$$

d u

.

$$+ \quad . \quad .$$

.

$$45 + 23$$

d u

.

$$+ \quad . \quad .$$

.

$$36 + 42$$

d u

.

$$+ \quad . \quad .$$

.

$$73 + 15$$

d u

.

$$+ \quad . \quad .$$

.

8/ Les nombres de 80 à 89

Revision

<https://www.youtube.com/watch?v=UGKSnvAchgY>

9/

Cherche tous les nombres de deux chiffres que l'on peut écrire avec les cartes.

2 5 3

.....
-------	-------	-------	-------	-------	-------

Range ces nombres du plus petit au plus grand.

.....	<	<	<	<	<
-------	---	-------	---	-------	---	-------	---	-------	---	-------

mardi 12 mai

Apprendre pour la dictée de jeudi 21 mai : **Maintenant, le train quitte la gare.**

Ecriture :

1/ Écris la date du jour en écriture cursive sur mon cahier à 3 carreaux comme d'habitude

Dictée : Parents dictez les mots suivants : **le frein, le train, maintenant.**

2/ Voici des phrases, tu devras recopier sur ton cahier. Tu devras respecter la hauteur des lettres et la présentation.

Le cheval



Le cheval est un mammifère de la famille des équidés. Il vit dans les plaines, les montagnes, les forêts et les fermes. Il peut vivre jusqu'à 30 ans.

Lecture :

3/Lecture à voix haute

Manuel Léo-Léa

Lire le texte 122-123 La peinture (D'abord par l'élève puis par l'adulte)

Pour les bleus lire p 25

4/Exercices à faire sur le cahier

Pour les jaunes et les verts

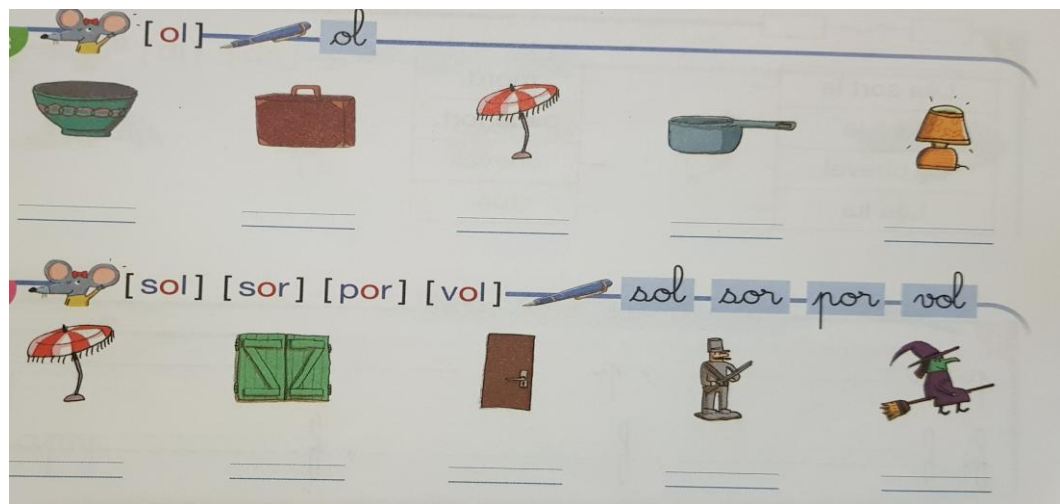
Relie.

Hier je suis tombé,	•	•	je reste à la maison.
Aujourd'hui il pleut,	•	•	j'achèterai une ceinture neuve.
Demain j'irai en ville,	•	•	j'ai cassé mes lunettes.

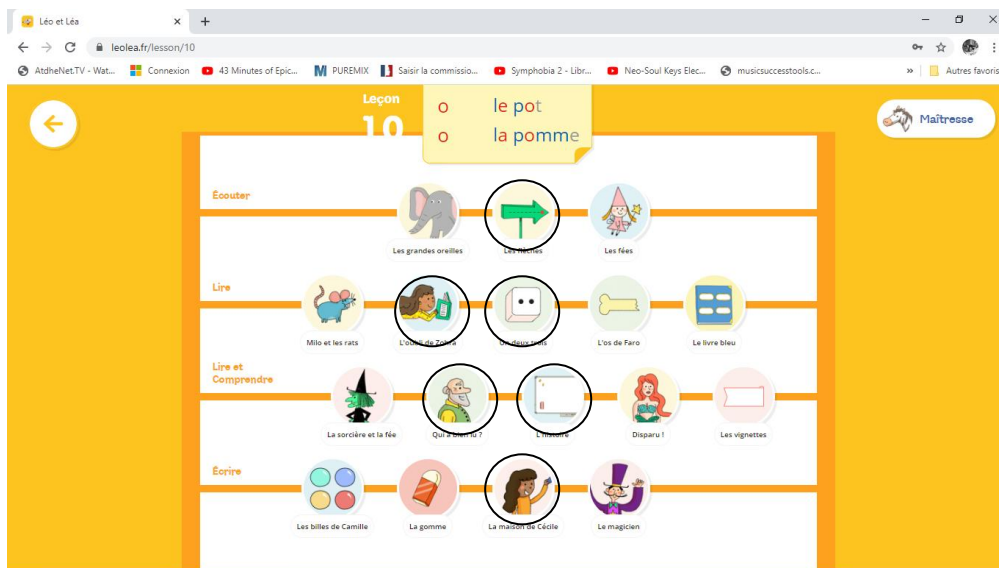
Complète les mots par : ei ein

Karl fait le pl_____ d'essence. Il n'y a pas assez de n_____ge pour skier.
Ce pull b_____ge est en laine. Les fr_____s de mon vélo sont tout neufs.

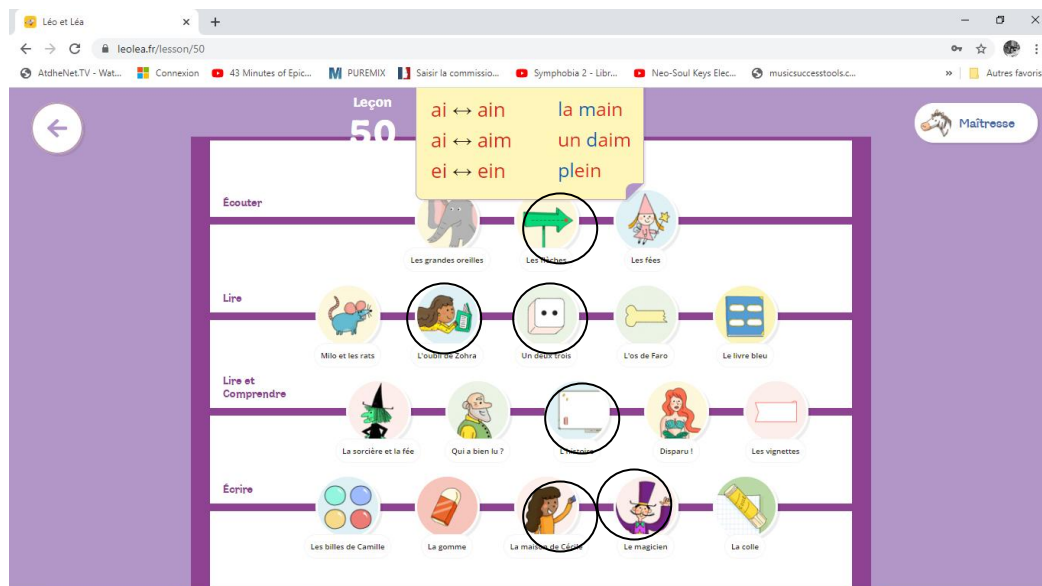
Pour les bleus



5/Site **leolea.fr**
Faire les exercices entourés
Pour les bleus



pour les jaunes et les verts



Mathématiques
Calcul mental

6/ Parents Cliquez sur ce lien (ou copier coller dans google) pour effectuer le calcul mental
https://www.acces-editions-numeriques.com/ressources_matcp/jeux/index.html?Flash=107
Sur le cahier ou sur une ardoise (si vous en avez une)

Numération

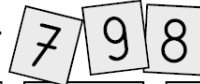
Les nombres de 90 à 99

<https://www.youtube.com/watch?v=56JhhCs-n0A>

<https://www.youtube.com/watch?v=Te3Zrv0ZEEc&t=34s>

7/A faire sur ton cahier

Cherche tous les nombres de deux chiffres
que l'on peut écrire avec les cartes.



.....
-------	-------	-------	-------	-------	-------



Range ces nombres du plus petit au plus grand.

.....	<	<	<	<	<
-------	---	-------	---	-------	---	-------	---	-------	---	-------

8/ lire les nombres


92-95-98-96-90-94-93-97-99-91

problèmes



J'entoure dans le texte les données importantes.
Je colorie le bon signe de l'opération .

1




Noé a 8 billes, son père lui achète un paquet de 12 billes.
♥ Combien en a-t-il maintenant ?

+

-

2




Max achète un livre à 5 € et un album à 8 €.
♥ Combien va-t-il payer ?

+

-

3



Marine a 8 €, elle achète un livre à 4 €.
♥ Combien lui reste-t-il d'argent maintenant ?

+

-

mercredi 13 mai

1/Questionner le monde : le vivant


Regarde les vidéos suivantes sur les grenouilles

<https://www.youtube.com/watch?v=kA9EVykyMBs>

<https://www.youtube.com/watch?v=AMs3waaW75g&feature=youtu.be>

2/ Faire une grenouille

Choisis la grenouille que tu veux faire et réalise la



Plus d'idées



3/ Site léoléa.fr Terminer pour les Bleus la leçon 10 et les Jaunes /verts la leçon 50

4/ Mathématiques fais les exercices que tu veux

<http://championmath.free.fr/page2CPfac.htm>