

Tracer un carré

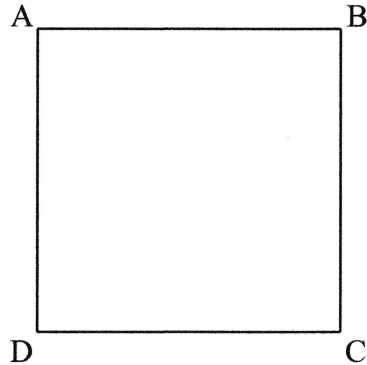
Décrire, reproduire, tracer un carré, un rectangle, un triangle rectangle.

Voici le carré ABCD.

Le carré a côtés.

Le carré a sommets.

AB mesure cm



Mesure la longueur des autres côtés.

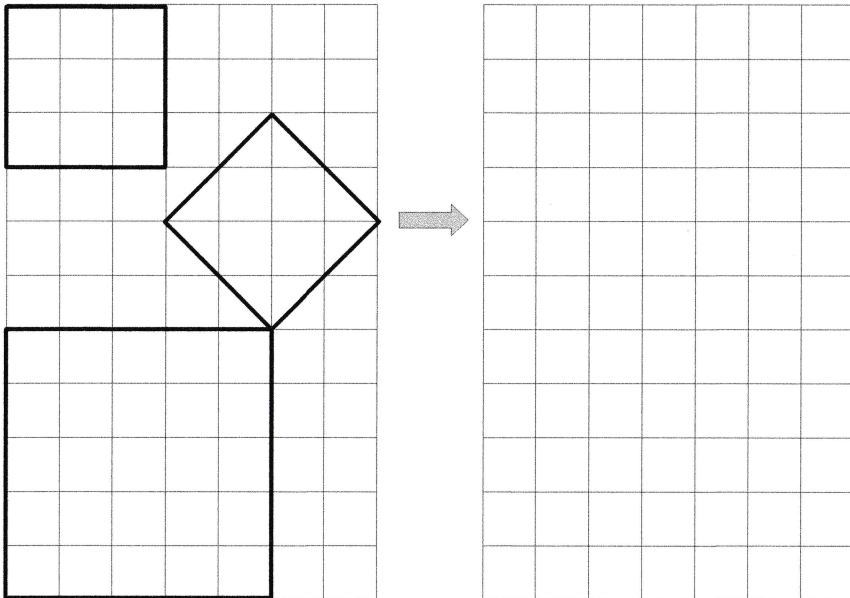
Que peux-tu dire ?

.....
.....

Observe ses angles. Que peux-tu dire ?

.....

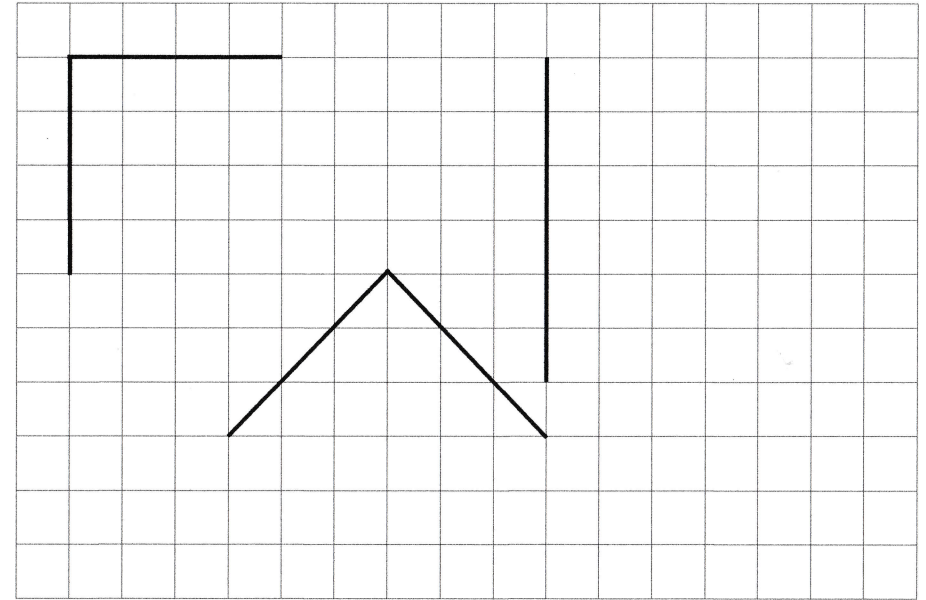
Reproduis ces carrés sur le quadrillage:



Tracer un carré

Décrire, reproduire, tracer un carré, un rectangle, un triangle rectangle.

Complète pour obtenir trois carrés:



Complète pour obtenir deux carrés:

